

## Activité 1 : Habiter la métropole de Lagos (pp. 174-177)

### A/ Une métropole qui s'agrandit (pp. 174-175)

- 1- Situer Lagos (continent, pays ...). .....
- 2- Combien d'habitants compte-t-elle ? .....
- 3- Doc. 2 : Où sont situés les quartiers les plus anciens ? .....
- 4- Doc. 2 : Dans quelles directions s'est ensuite étendue la ville ? .....
- 5- Doc. 2 : Quelle la taille de la ville ? (aide-toi de l'échelle graphique) ? .....
- 6- Doc. 1 : Quelles sont les 3 principales difficultés quotidiennes que rencontrent les habitants ?
  - .....
  - .....
  - .....
- 7- Doc. 2 : Quels moyens de transport existent ? .....
- 8- Doc. 4 : Quelle solution est envisagée ? .....

### B/ De fortes inégalités

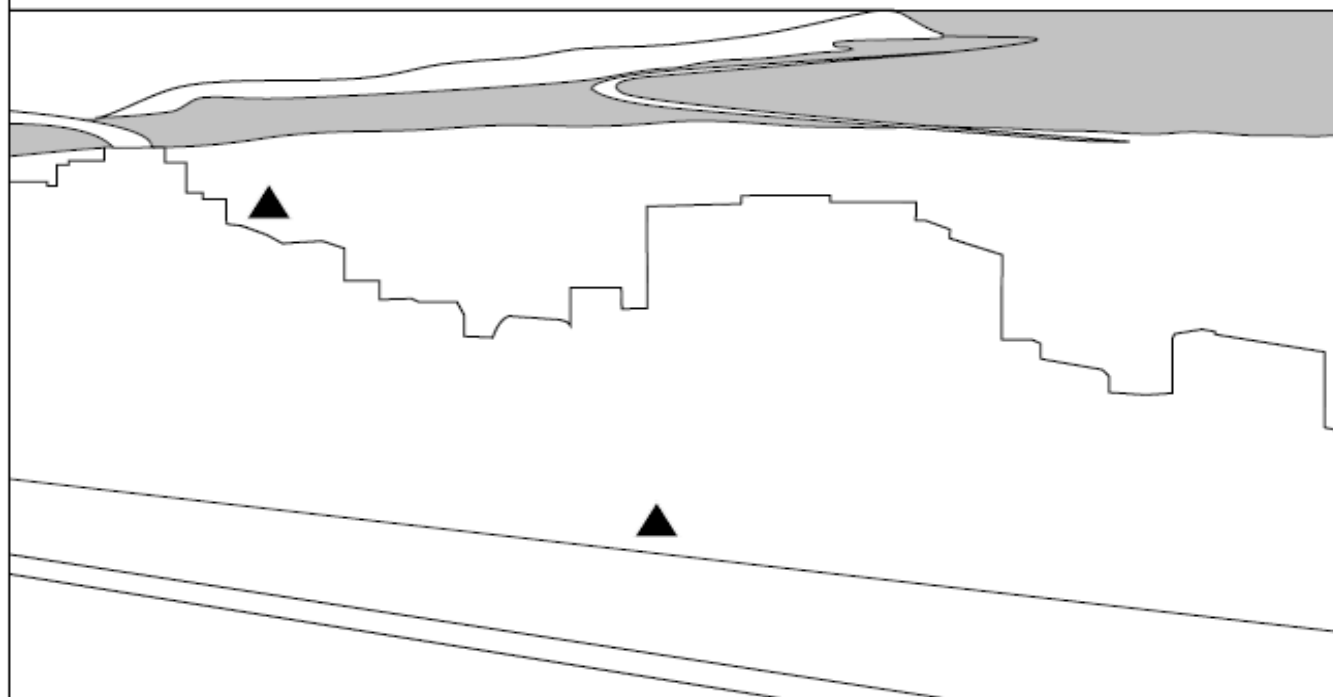
- 9- Doc. 2 : Quels sont les principaux types de quartiers à Lagos ?
  - .....
  - .....
  - .....
- 10- Doc. 5 : Quelles difficultés quotidiennes rencontrent ces habitants ? .....
- 11- Doc. 6 : Montre que la situation s'améliore lentement en citant des exemples concrets.  
.....  
.....







### C/ Bilan : Croquis d'une vue du centre-ville de Lagos

- 12- Réaliser le croquis à partir du doc. 3 p. 75
- 13- Recopier les définitions suivantes dans la fiche bilan : **pays en développement** (p. 174), **bidonville** (p. 176),

**Réalisez le croquis de paysage de Lagos.**

- Associez chaque élément du paysage à une couleur.
- Coloriez le croquis avec les couleurs choisies.
- Donnez un titre au croquis.



 Quartier des affaires	 Bidonville	 Aires de stationnement
 Immeubles d'habitation	 Principaux axes de communication	 Edifice religieux (église, mosquée)